

Φτιάχνω το δικό μου  
πρόβλημα πρόσθεσης.





ΑΥΤΟ ΠΡΟΣΤ.

Ενώ η αρχή του φθινοπώρου



του μήνα είναι η



Τότε  
παραβρί  
πρόσφατα  
στο  
Σέπτε




και πάλι  
αυτήν για  
πρώτη φορά



και πάλι  
σε  
αυτήν για  
πρώτη φορά







Από ταυρίδα



3 = 3



2 2



5 1



4 2

Μια πεταλούδα έχει στα φτερά της 6 βούλες. Πόσες μπορεί να έχει στη μια πλευρά και πόσες στην άλλη;





$$3+3$$



$$1+5$$



$$2+4$$



$$6+0$$




Μια πεταλούδα έχει στα φτερά της 6 βούλες. Πόσες μπορεί να έχει στη μια πλευρά και πόσες στην άλλη;





Μια πεταλούδα έχει στα φτερά της 6 βούλες. Πόσες μπορεί να έχει στη μια πλευρά και πόσες στην άλλη;









# Σειροθέτηση...





Τάυτιση...





# Γραφικές παραστάσεις...

